

BỘ GIÁO DỤC VÀ ĐÀO TẠO KỶ THI TRUNG HỌC PHỔ THÔNG QUỐC GIA NĂM 2019

Bài thi: KHOA HỌC TỰ NHIÊN

ĐỀ THI THAM KHẢO

Môn thi thành phần: VẬT LÝ

(Đề thi có 04 trang)

Thời gian làm bài: 50 phút, không kể thời gian phát đề

Họ, tên thí sinh:

Số báo danh:

Mã đề thi 001

Câu 1: Một vật dao động điều hoà theo phương trình $x = A \cos(\omega t + \varphi)$ ($A > 0, \omega > 0$). Pha của dao động ở thời điểm t là

- A. ω . B. $\cos(\omega t + \varphi)$. C. $\omega t + \varphi$. D. φ .

Câu 2: Một con lắc lò xo có độ cứng k dao động điều hoà dọc theo trục Ox nằm ngang. Khi vật ở vị trí có li độ x thì lực kéo về tác dụng lên vật có giá trị là

- A. $-kx$. B. kx^2 . C. $-\frac{1}{2}kx$. D. $\frac{1}{2}kx^2$.

Câu 3: Một sóng cơ hình sin truyền theo trục Ox . Phương trình dao động của một phần tử trên Ox là $u = 2 \cos 10t$ (mm). Biên độ của sóng là

- A. 10 mm. B. 4 mm. C. 5 mm. D. 2 mm.

Câu 4: Độ cao của âm là một đặc trưng sinh lí của âm gắn liền với

- A. tần số âm. B. cường độ âm. C. mức cường độ âm. D. đồ thị dao động âm.

Câu 5: Điện áp $u = 120 \cos\left(100\pi t + \frac{\pi}{12}\right)$ (V) có giá trị cực đại là

- A. $60\sqrt{2}$ V. B. 120 V. C. $120\sqrt{2}$ V. D. 60 V.

Câu 6: Cuộn sơ cấp và cuộn thứ cấp của một máy biến áp lí tưởng có số vòng dây lần lượt là N_1 và N_2 . Đặt điện áp xoay chiều có giá trị hiệu dụng U_1 vào hai đầu cuộn sơ cấp thì điện áp hiệu dụng giữa hai đầu cuộn thứ cấp để hở là U_2 . Hệ thức đúng là

- A. $\frac{U_1}{U_2} = \frac{N_2}{N_1}$. B. $\frac{U_1}{N_1} = U_2 N_2$. C. $U_1 U_2 = N_1 N_2$. D. $\frac{U_1}{U_2} = \frac{N_1}{N_2}$.

Câu 7: Trong sơ đồ khối của máy phát thanh vô tuyến đơn giản **không** có bộ phận nào sau đây?

- A. Mạch tách sóng. B. Mạch khuếch đại. C. Micrô. D. Anten phát.

Câu 8: Quang phổ liên tục do một vật rắn bị nung nóng phát ra

- A. chỉ phụ thuộc vào bản chất của vật đó. B. không phụ thuộc vào bản chất và nhiệt độ của vật đó.
C. chỉ phụ thuộc vào nhiệt độ của vật đó. D. phụ thuộc vào cả bản chất và nhiệt độ của vật đó.

Câu 9: Khi nói về tia X, phát biểu nào sau đây đúng?

- A. Tia X là dòng hạt mang điện. B. Tia X không có khả năng đâm xuyên.
C. Tia X có bản chất là sóng điện từ. D. Tia X không truyền được trong chân không.

Câu 10: Lần lượt chiếu các ánh sáng đơn sắc: đỏ, tím, vàng và cam vào một chất huỳnh quang thì có một trường hợp chất huỳnh quang này phát quang. Biết ánh sáng phát quang có màu chàm. Ánh sáng kích thích gây ra hiện tượng phát quang này là ánh sáng

- A. vàng. B. đỏ. C. tím. D. cam.

Câu 11: Hạt nhân ${}_{92}^{235}\text{U}$ hấp thụ một hạt neutron thì vỡ ra thành hai hạt nhân nhẹ hơn. Đây là

- A. quá trình phóng xạ. B. phản ứng nhiệt hạch.
C. phản ứng phân hạch. D. phản ứng thu năng lượng.

Câu 12: Cho các tia phóng xạ: α , β^- , β^+ , γ . Tia nào có bản chất là sóng điện từ?

- A. Tia α . B. Tia β^+ . C. Tia β^- . D. Tia γ .

Câu 13: Cho hai điện tích điểm đặt trong chân không. Khi khoảng cách giữa hai điện tích là r thì lực tương tác điện giữa chúng có độ lớn là F . Khi khoảng cách giữa hai điện tích là $3r$ thì lực tương tác điện giữa chúng có độ lớn là

- A. $\frac{F}{9}$. B. $\frac{F}{3}$. C. $3F$. D. $9F$.

Câu 14: Một cuộn cảm có độ tự cảm 0,2 H. Khi cường độ dòng điện trong cuộn cảm giảm đều từ I xuống 0 trong khoảng thời gian 0,05 s thì suất điện động tự cảm xuất hiện trong cuộn cảm có độ lớn là 8 V. Giá trị của I là

- A. 0,8 A. B. 0,04 A. C. 2,0 A. D. 1,25 A.

Câu 15: Một con lắc đơn dao động với phương trình $s = 2 \cos 2\pi t$ (cm) (t tính bằng giây). Tần số dao động của con lắc là

- A. 1 Hz. B. 2 Hz. C. π Hz. D. 2π Hz.

Câu 16: Trên một sợi dây đang có sóng dừng. Biết sóng truyền trên dây có bước sóng 30 cm. Khoảng cách ngắn nhất từ một nút đến một bụng là

- A. 15 cm. B. 30 cm. C. 7,5 cm. D. 60 cm.

Câu 17: Đặt điện áp $u = 200 \cos 100\pi t$ (V) vào hai đầu đoạn mạch gồm điện trở 100Ω , cuộn cảm thuần và tụ điện mắc nối tiếp. Biết trong đoạn mạch có cộng hưởng điện. Cường độ hiệu dụng của dòng điện trong đoạn mạch là

- A. $2\sqrt{2}$ A. B. $\sqrt{2}$ A. C. 2 A. D. 1 A.

Câu 18: Một dòng điện có cường độ $i = 2 \cos 100\pi t$ (A) chạy qua đoạn mạch chỉ có điện trở 100Ω . Công suất tiêu thụ của đoạn mạch là

- A. 200 W. B. 100 W. C. 400 W. D. 50 W.

Câu 19: Một mạch dao động lí tưởng đang có dao động điện từ tự do. Biểu thức điện tích của một bản tụ điện trong mạch là $q = 6\sqrt{2} \cos 10^6 \pi t$ (μC) (t tính bằng s). Ở thời điểm $t = 2,5 \cdot 10^{-7}$ s, giá trị của q bằng

- A. $6\sqrt{2} \mu\text{C}$. B. $6 \mu\text{C}$. C. $-6\sqrt{2} \mu\text{C}$. D. $-6 \mu\text{C}$.

Câu 20: Một bức xạ đơn sắc có tần số $3 \cdot 10^{14}$ Hz. Lấy $c = 3 \cdot 10^8$ m/s. Đây là

- A. bức xạ tử ngoại. B. bức xạ hồng ngoại. C. ánh sáng đỏ. D. ánh sáng tím.

Câu 21: Công thoát của êlectron khỏi kẽm có giá trị là 3,55 eV. Lấy $h = 6,625 \cdot 10^{-34}$ J.s; $c = 3 \cdot 10^8$ m/s và $1 \text{ eV} = 1,6 \cdot 10^{-19}$ J. Giới hạn quang điện của kẽm là

- A. 0,35 μm . B. 0,29 μm . C. 0,66 μm . D. 0,89 μm .

Câu 22: Xét nguyên tử hiđrô theo mẫu nguyên tử Bo, khi nguyên tử chuyển từ trạng thái dừng có năng lượng $-3,4$ eV sang trạng thái dừng có năng lượng $-13,6$ eV thì nó phát ra một photon có năng lượng là

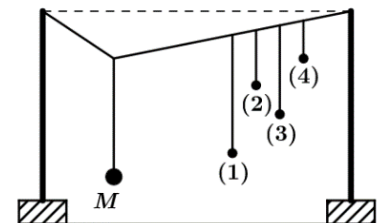
- A. 10,2 eV. B. 13,6 eV. C. 3,4 eV. D. 17,0 eV.

Câu 23: Một hạt nhân có độ hụt khối là 0,21 u. Lấy $1 \text{ u} = 931,5 \text{ MeV}/c^2$. Năng lượng liên kết của hạt nhân này là

- A. 195,615 MeV. B. 4435,7 MeV. C. 4435,7 J. D. 195,615 J.

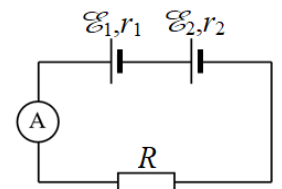
Câu 24: Thực hiện thí nghiệm về dao động cưỡng bức như hình bên. Năm con lắc đơn: (1), (2), (3), (4) và M (con lắc điều khiển) được treo trên một sợi dây. Ban đầu hệ đang đứng yên ở vị trí cân bằng. Kích thích M dao động nhỏ trong mặt phẳng vuông góc với mặt phẳng hình vẽ thì các con lắc còn lại dao động theo. Không kể M , con lắc dao động mạnh nhất là

- A. con lắc (2). B. con lắc (1).
C. con lắc (3). D. con lắc (4).



Câu 25: Cho mạch điện như hình bên. Biết $\mathcal{E}_1 = 3 \text{ V}$; $r_1 = 1 \Omega$; $\mathcal{E}_2 = 6 \text{ V}$; $r_2 = 1 \Omega$; $R = 2,5 \Omega$. Bỏ qua điện trở của ampe kế và dây nối. Số chỉ của ampe kế là

- A. 0,67 A. B. 2,0 A.
C. 2,57 A. D. 4,5 A.



Câu 26: Một thấu kính hội tụ có tiêu cự 30 cm. Vật sáng AB đặt vuông góc với trục chính của thấu kính. Ảnh của vật tạo bởi thấu kính là ảnh ảo và cách vật 40 cm. Khoảng cách từ AB đến thấu kính có giá trị **gần nhất** với giá trị nào sau đây?

- A. 10 cm. B. 60 cm. C. 43 cm. D. 26 cm.

Câu 27: Dao động của một vật có khối lượng 100 g là tổng hợp của hai dao động cùng phương có phương trình lần lượt là $x_1 = 5 \cos\left(10t + \frac{\pi}{3}\right)$ (cm) và $x_2 = 5 \cos\left(10t - \frac{\pi}{6}\right)$ (cm) (t tính bằng s). Động năng cực đại của vật là

- A. 25 mJ. B. 12,5 mJ. C. 37,5 mJ. D. 50 mJ.

Câu 28: Tiến hành thí nghiệm Y-âng về giao thoa ánh sáng với ánh sáng đơn sắc có bước sóng $0,6 \mu\text{m}$. Khoảng cách giữa hai khe là 0,3 mm, khoảng cách từ mặt phẳng chứa hai khe đến màn quan sát là 2 m. Trên màn, khoảng cách giữa vân sáng bậc 3 và vân sáng bậc 5 ở hai phía so với vân sáng trung tâm là

- A. 8 mm. B. 32 mm. C. 20 mm. D. 12 mm.

Câu 29: Một tấm pin Mặt Trời được chiếu sáng bởi chùm sáng đơn sắc có tần số $5 \cdot 10^{14}$ Hz. Biết công suất chiếu sáng vào tấm pin là 0,1 W. Lấy $h = 6,625 \cdot 10^{-34}$ J.s. Số photon đập vào tấm pin trong mỗi giây là

- A. $3,02 \cdot 10^{17}$. B. $7,55 \cdot 10^{17}$. C. $3,77 \cdot 10^{17}$. D. $6,04 \cdot 10^{17}$.

Câu 30: Biết số A-vô-ga-đrô là $6,02 \cdot 10^{23} \text{ mol}^{-1}$. Số neutron có trong $1,5 \text{ mol } {}^7_3\text{Li}$ là

- A. $6,32 \cdot 10^{24}$. B. $2,71 \cdot 10^{24}$. C. $9,03 \cdot 10^{24}$. D. $3,61 \cdot 10^{24}$.

Câu 31: Ở mặt nước, tại hai điểm A và B cách nhau 19 cm, có hai nguồn kết hợp dao động cùng pha theo phương thẳng đứng, phát ra hai sóng có bước sóng 4 cm. Trong vùng giao thoa, M là một điểm ở mặt nước thuộc đường trung trực của AB . Trên đoạn AM , số điểm cực tiểu giao thoa là

- A. 7. B. 4. C. 5. D. 6.

Câu 32: Một sóng điện từ lan truyền trong chân không dọc theo đường thẳng từ điểm M đến điểm N cách nhau 45 m. Biết sóng này có thành phần điện trường tại mỗi điểm biến thiên điều hòa theo thời gian với tần số 5 MHz. Lấy $c = 3 \cdot 10^8$ m/s. Ở thời điểm t , cường độ điện trường tại M bằng 0. Thời điểm nào sau đây cường độ điện trường tại N bằng 0?

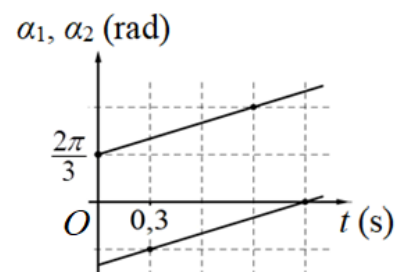
- A. $t + 225$ ns. B. $t + 230$ ns. C. $t + 260$ ns. D. $t + 250$ ns.

Câu 33: Một con lắc lò xo treo thẳng đứng. Từ vị trí cân bằng, nâng vật nhỏ của con lắc theo phương thẳng đứng lên đến vị trí lò xo không biến dạng rồi buông ra, đồng thời truyền cho vật vận tốc $10\pi\sqrt{3}$ cm/s hướng về vị trí cân bằng. Con lắc dao động điều hòa với tần số 5 Hz. Lấy $g = 10 \text{ m/s}^2$; $\pi^2 = 10$. Trong một chu kì dao động, khoảng thời gian mà lực kéo về và lực đàn hồi của lò xo tác dụng lên vật ngược hướng nhau là

- A. $\frac{1}{30}$ s. B. $\frac{1}{12}$ s. C. $\frac{1}{6}$ s. D. $\frac{1}{60}$ s.

Câu 34: Hai điểm sáng dao động điều hòa với cùng biên độ trên một đường thẳng, quanh vị trí cân bằng O . Các pha của hai dao động ở thời điểm t là α_1 và α_2 . Hình bên là đồ thị biểu diễn sự phụ thuộc của α_1 và của α_2 theo thời gian t . Tính từ $t = 0$, thời điểm hai điểm sáng gặp nhau lần đầu là

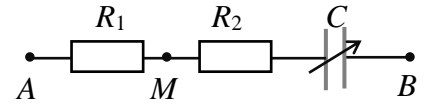
- A. 0,15 s. B. 0,3 s. C. 0,2 s. D. 0,25 s.



Câu 35: Ở mặt nước, một nguồn sóng đặt tại điểm O dao động điều hòa theo phương thẳng đứng. Sóng truyền trên mặt nước có bước sóng 5 cm. M và N là hai điểm trên mặt nước mà phần tử nước ở đó dao động cùng pha với nguồn. Trên các đoạn OM , ON và MN có số điểm mà phần tử nước ở đó dao động ngược pha với nguồn lần lượt là 5, 3 và 3. Độ dài đoạn MN có giá trị **gần nhất** với giá trị nào sau đây?

- A. 40 cm. B. 20 cm. C. 30 cm. D. 10 cm.

Câu 36: Đặt điện áp $u_{AB} = U_0 \cos \omega t$ (U_0, ω không đổi) vào hai đầu đoạn mạch AB như hình bên. Biết $R_1 = 3R_2$. Gọi $\Delta\varphi$ là độ lệch pha giữa u_{AB} và điện áp u_{MB} . Điều chỉnh điện dung của tụ điện đến giá trị mà $\Delta\varphi$ đạt cực đại. Hệ số công suất của đoạn mạch AB lúc này bằng

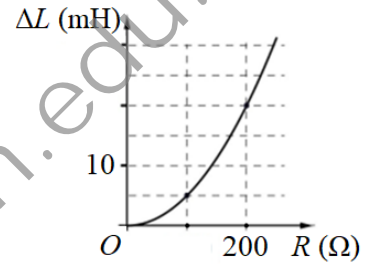


- A. 0,866. B. 0,333. C. 0,894. D. 0,500.

Câu 37: Điện năng được truyền từ nhà máy điện đến nơi tiêu thụ bằng đường dây tải điện một pha. Để giảm hao phí trên đường dây người ta tăng điện áp ở nơi truyền đi bằng máy tăng áp lí tưởng có tỉ số giữa số vòng dây của cuộn thứ cấp và số vòng dây của cuộn sơ cấp là k . Biết công suất của nhà máy điện không đổi, điện áp hiệu dụng giữa hai đầu cuộn sơ cấp không đổi, hệ số công suất của mạch điện bằng 1. Khi $k = 10$ thì công suất hao phí trên đường dây bằng 10% công suất ở nơi tiêu thụ. Để công suất hao phí trên đường dây bằng 5% công suất ở nơi tiêu thụ thì k phải có giá trị là

- A. 19,1. B. 13,8. C. 15,0. D. 5,0.

Câu 38: Đặt điện áp xoay chiều có giá trị hiệu dụng và tần số không đổi vào hai đầu đoạn mạch mắc nối tiếp gồm biến trở R , tụ điện có điện dung C và cuộn cảm thuần có độ tự cảm L thay đổi được. Ứng với mỗi giá trị của R , khi $L = L_1$ thì trong đoạn mạch có cộng hưởng, khi $L = L_2$ thì điện áp hiệu dụng giữa hai đầu cuộn cảm đạt giá trị cực đại. Hình bên là đồ thị biểu diễn sự phụ thuộc của $\Delta L = L_2 - L_1$ theo R . Giá trị của C là



- A. 0,4 μF . B. 0,8 μF .
C. 0,5 μF . D. 0,2 μF .

Câu 39: Tiến hành thí nghiệm Y-âng về giao thoa ánh sáng, nguồn sáng phát ra đồng thời hai ánh sáng đơn sắc có bước sóng λ_1 và λ_2 . Trên màn, trong khoảng giữa hai vị trí có vân sáng trùng nhau liên tiếp có tất cả N vị trí mà ở mỗi vị trí đó có một bức xạ cho vân sáng. Biết λ_1 và λ_2 có giá trị nằm trong khoảng từ 400 nm đến 750 nm. N không thể nhận giá trị nào sau đây?

- A. 7. B. 8. C. 5. D. 6.

Câu 40: Bắn hạt α có động năng 4,01 MeV vào hạt nhân $^{14}_7\text{N}$ đứng yên thì thu được một hạt prôtôn và một hạt nhân X . Phản ứng này thu năng lượng 1,21 MeV và không kèm theo bức xạ gamma. Biết tỉ số giữa tốc độ của hạt prôtôn và tốc độ của hạt X bằng 8,5. Lấy khối lượng các hạt nhân tính theo đơn vị u bằng số khối của chúng; $c = 3.10^8$ m/s; $1 u = 931,5$ MeV/ c^2 . Tốc độ của hạt X là

- A. $9,73.10^6$ m/s. B. $3,63.10^6$ m/s. C. $2,46.10^6$ m/s. D. $3,36.10^6$ m/s.

-----HẾT-----